

**ΕΠΑΝΑΛΗΠΤΙΚΕΣ ΑΠΟΛΥΤΗΡΙΕΣ ΕΞΕΤΑΣΕΙΣ Γ' ΤΑΞΗΣ
ΗΜΕΡΗΣΙΟΥ ΕΝΙΑΙΟΥ ΛΥΚΕΙΟΥ
ΔΕΥΤΕΡΑ 11 ΙΟΥΛΙΟΥ 2005
ΕΞΕΤΑΖΟΜΕΝΟ ΜΑΘΗΜΑ: ΦΥΣΙΚΗ
ΘΕΤΙΚΗΣ ΚΑΙ ΤΕΧΝΟΛΟΓΙΚΗΣ ΚΑΤΕΥΘΥΝΣΗΣ
(ΚΑΙ ΤΩΝ ΔΥΟ ΚΥΚΛΩΝ)
ΣΥΝΟΛΟ ΣΕΛΙΔΩΝ: ΕΠΤΑ (7)**

ΘΕΜΑ 1ο

Να γράψετε στο τετράδιό σας τον αριθμό καθεμιάς από τις παρακάτω ερωτήσεις 1 - 4 και δίπλα το γράμμα που αντιστοιχεί στη σωστή απάντηση.

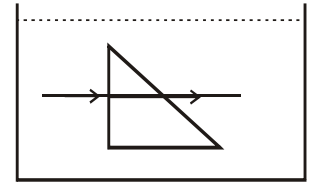
1. Κατά τη σύνθεση δύο απλών αρμονικών ταλαντώσεων της ίδιας διεύθυνσης που γίνονται γύρω από το ίδιο σημείο, προκύπτει απλή αρμονική ταλάντωση σταθερού πλάτους, μόνο όταν οι επιμέρους ταλαντώσεις έχουν:
 - α. ίσες συχνότητες.
 - β. παραπλήσιες συχνότητες.
 - γ. διαφορετικές συχνότητες.
 - δ. συχνότητες που η μια είναι ακέραιο πολλαπλάσιο της άλλης.

Μονάδες 5

2. Με την πάροδο του χρόνου και καθώς τα αμορτισέρ ενός αυτοκινήτου παλιώνουν και φθείρονται:
 - α. η τιμή της σταθεράς απόσβεσης b αυξάνεται.
 - β. η τιμή της σταθεράς απόσβεσης b μειώνεται.
 - γ. το πλάτος της ταλάντωσης του αυτοκινήτου, όταν περνά από εξόγκωμα του δρόμου, μειώνεται πιο γρήγορα.
 - δ. η περίοδος των ταλαντώσεων του αυτοκινήτου παρουσιάζει μικρή αύξηση.

Μονάδες 5

3. Γυάλινο πρίσμα είναι βυθισμένο εξ ολοκλήρου σε υγρό. Μονοχρωματική ακτινοβολία διαδίδεται, όπως δείχνει το σχήμα. Αν το πρίσμα και το υγρό έχουν δείκτες διάθλασης n_1 και n_2 αντίστοιχα, τότε ισχύει:



- α. $n_1 > n_2$.
- β. $n_2 > n_1$.
- γ. $n_1 = n_2$.
- δ. $n_2 = 2n_1$.

Μονάδες 5

4. Τροχός ακτίνας R κυλίεται χωρίς να ολισθαίνει σε οριζόντιο επίπεδο. Αν v_{cm} η ταχύτητα του τροχού λόγω μεταφορικής κίνησης, τότε η ταχύτητα των σημείων της περιφέρειας του τροχού που απέχουν από το έδαφος απόσταση ίση με R , έχει μέτρο:

- α. v_{cm} .
- β. $2v_{cm}$.
- γ. 0.
- δ. $\sqrt{2} v_{cm}$.

Μονάδες 5

5. Να χαρακτηρίσετε τις προτάσεις που ακολουθούν, γράφοντας στο τετράδιό σας δίπλα στο γράμμα που αντιστοιχεί σε κάθε πρόταση, τη λέξη **Σωστό**, αν η πρόταση είναι σωστή ή **Λάθος**, αν η πρόταση είναι λανθασμένη.

- α. Σε κύκλωμα εξαναγκασμένων ηλεκτρικών ταλαντώσεων μεταβάλλουμε τη χωρητικότητα του πυκνωτή. Τότε μεταβάλλεται και η συχνότητα των ταλαντώσεων του κυκλώματος.

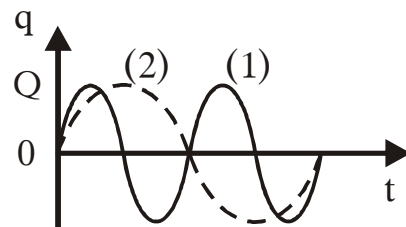
- β. Η ταχύτητα με την οποία διαδίδεται ένα κύμα σε ένα μέσον, εξαρτάται μόνο από τις ιδιότητες του μέσου που διαταράσσεται, και όχι από το πόσο ισχυρή είναι η διαταραχή.
- γ. Σε στάσιμο κύμα τα σημεία του μέσου που ταλαντώνονται, διέρχονται ταυτόχρονα από τη θέση ισορροπίας τους.
- δ. Όταν μια σφαίρα μικρής μάζας προσκρούει ελαστικά και κάθετα στην επιφάνεια ενός τοίχου, ανακλάται με ταχύτητα ίδιου μέτρου και αντίθετης φοράς από αυτή που είχε πριν από την κρούση.
- ε. Τα ραδιοκύματα διαδίδονται στο κενό με ταχύτητα μικρότερη από την ταχύτητα διάδοσης του φωτός.

Μονάδες 5

ΘΕΜΑ 2ο

Για τις παρακάτω ερωτήσεις να γράψετε στο τετράδιό σας τον αριθμό της ερώτησης και δίπλα το γράμμα που αντιστοιχεί στη σωστή απάντηση.

1. Διαθέτουμε δύο κυκλώματα (L_1C_1) και (L_2C_2) ηλεκτρικών ταλαντώσεων. Τα διαγράμματα (1) και (2) παριστάνουν τα φορτία των πυκνωτών C_1 και C_2 αντίστοιχα, σε συνάρτηση με το χρόνο. Ο λόγος I_1/I_2 των μέγιστων τιμών της έντασης του ρεύματος στα δύο κυκλώματα είναι:



- α. 2. β. $\frac{1}{4}$. γ. $\frac{1}{2}$.

Μονάδες 2

Να αιτιολογήσετε την απάντησή σας.

Μονάδες 4

2. Στη χορδή μιας κιθάρας δημιουργείται στάσιμο κύμα συχνότητας f_1 . Το στάσιμο κύμα έχει τέσσερις δεσμούς, δύο στα άκρα της χορδής και δύο μεταξύ αυτών. Στην ίδια χορδή, με άλλη διέγερση, δημιουργείται άλλο στάσιμο κύμα συχνότητας f_2 , που έχει εννέα συνολικά δεσμούς, δύο στα άκρα της χορδής και 7 μεταξύ αυτών.

Η συχνότητα f_2 είναι ίση με:

α. $\frac{4}{3} f_1$. β. $\frac{8}{3} f_1$. γ. $\frac{5}{3} f_1$.

Μονάδες 2

Να αιτιολογήσετε την απάντησή σας.

Μονάδες 4

3. Υποθέτουμε ότι κλιματολογικές συνθήκες επιβάλλουν την μετανάστευση του πληθυσμού της Γης προς τις πολικές ζώνες. Η κινητική ενέργεια λόγω περιστροφής της Γης γύρω από τον άξονά της:

- α. θα μείνει σταθερή.
β. θα ελαττωθεί.
γ. θα αυξηθεί.

Μονάδες 2

Να αιτιολογήσετε την απάντησή σας.

Μονάδες 4

4. Σώμα μάζας m , το οποίο έχει κινητική ενέργεια K , συγκρούεται πλαστικά με σώμα μάζας $4m$. Μετά την κρούση, το συσσωμάτωμα μένει ακίνητο. Η μηχανική ενέργεια που χάθηκε κατά την κρούση, είναι:

α. $\frac{5}{4} K$. β. K . γ. $\frac{7}{4} K$

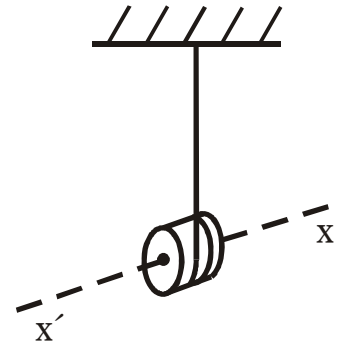
Μονάδες 2

Να αιτιολογήσετε την απάντησή σας.

Μονάδες 5

ΘΕΜΑ 3ο

Το γιο-γιο του σχήματος αποτελείται από ομογενή συμπαγή κύλινδρο που έχει μάζα $m=0,12\text{kg}$ και ακτίνα $R=1,5\cdot 10^{-2}\text{m}$. Γύρω από τον κύλινδρο έχει τυλιχτεί νήμα. Τη χρονική στιγμή $t=0$ αφήνουμε τον κύλινδρο να πέσει. Το νήμα ξετυλίγεται και ο κύλινδρος περιστρέφεται γύρω από νοητό οριζόντιο άξονα $x'x$, ο οποίος ταυτίζεται με τον άξονα συμμετρίας του. Το νήμα σε όλη τη διάρκεια της κίνησης του κυλίνδρου παραμένει κατακόρυφο και τεντωμένο και δεν ολισθαίνει στην περιφέρεια του κυλίνδρου. Τη στιγμή που έχει ξετυλιχτεί νήμα μήκους $\ell=20R$, η ταχύτητα του κέντρου μάζας του κυλίνδρου είναι $v_{cm}=2\text{m/s}$.



- α. Να υπολογίσετε τη ροπή αδράνειας του κυλίνδρου ως προς τον άξονα περιστροφής του. (Ο τύπος που μας δίνει τη ροπή αδράνειας του κυλίνδρου ως προς άξονα που διέρχεται από το κέντρο μάζας του, δεν θεωρείται γνωστός).

Μονάδες 6

- β. Να υπολογίσετε το μέτρο του ρυθμού μεταβολής της στροφορμής του κυλίνδρου, καθώς αυτός κατέρχεται.

Μονάδες 7

- γ. Τη χρονική στιγμή που η ταχύτητα του κέντρου μάζας του κυλίνδρου είναι $v_{cm}=2\text{m/s}$, το νήμα κόβεται.

Να υπολογίσετε το μέτρο της στροφορμής του κυλίνδρου ως προς τον άξονα περιστροφής του μετά την πάροδο χρόνου $0,8\text{s}$ από τη στιγμή που κόπηκε το νήμα.

Μονάδες 6

- δ. Να κάνετε σε βαθμολογημένους άξονες το διάγραμμα του μέτρου της στροφορμής σε συνάρτηση με το χρόνο από τη χρονική στιγμή $t=0$, μέχρι τη χρονική στιγμή που

αντιστοιχεί σε χρόνο $0,8\text{s}$ από τη στιγμή που κόπηκε το νήμα.

Μονάδες 6

Δίνεται $g=10\text{m/s}^2$

ΘΕΜΑ 4ο

Στην οροφή ερευνητικού εργαστηρίου είναι στερεωμένο ιδανικό ελατήριο σταθεράς $K=60\text{N/m}$, στο άλλο άκρο του οποίου στερεώνεται σώμα Σ_1 με μάζα $m_1=17\text{kg}$. Το σύστημα ισορροπεί. Ένας παρατηρητής βρίσκεται στον κατακόρυφο άξονα $y'y$ που ορίζει ο άξονας του ελατηρίου. Ο παρατηρητής εκτοξεύει κατακόρυφα προς τα πάνω σώμα Σ_2 μάζας $m_2=3\text{kg}$ με ταχύτητα μέτρου $v_0=12\text{m/s}$. Το σημείο εκτόξευσης απέχει απόσταση $h=2,2\text{m}$ από το σώμα Σ_1 . Το σώμα Σ_2 έχει ενσωματωμένη σειρήνα που εκπέμπει συνεχώς ήχο συχνότητας $f_s=700\text{Hz}$.

α. Να υπολογίσετε τη συχνότητα του ήχου που αντιλαμβάνεται ο παρατηρητής λίγο πριν από την κρούση του σώματος Σ_2 με το σώμα Σ_1 .

Μονάδες 5

β. Η κρούση που επακολουθεί είναι πλαστική και γίνεται με τρόπο ακαριαίο. Να βρεθεί η σχέση που περιγράφει την απομάκρυνση y της ταλάντωσης του συσσωματώματος από τη θέση ισορροπίας του συσσωματώματος, σε συνάρτηση με το χρόνο. Για την περιγραφή αυτή θεωρούμε ως αρχή μέτρησης του χρόνου ($t=0$) τη στιγμή της κρούσης και ως θετική φορά του άξονα των απομακρύνσεων τη φορά της ταχύτητας του συσσωματώματος αμέσως μετά την κρούση.

Μονάδες 8

γ. Η σειρήνα δεν καταστρέφεται κατά την κρούση. Να βρεθεί η σχέση που δίνει τη συχνότητα f_A , την οποία αντιλαμβάνεται ο παρατηρητής σε συνάρτηση με το χρόνο μετά την κρούση.

Μονάδες 7

- δ. Να βρεθεί ο λόγος της μέγιστης συχνότητας $f_{A,max}$ προς την ελάχιστη συχνότητα $f_{A,min}$ που αντιλαμβάνεται ο παρατηρητής.

Μονάδες 5

Δίνονται η ταχύτητα διάδοσης του ήχου στον αέρα $v_{\eta\chi}=340\text{m/s}$ και $g=10\text{m/s}^2$.

ΟΔΗΓΙΕΣ ΓΙΑ ΤΟΥΣ ΕΞΕΤΑΖΟΜΕΝΟΥΣ

1. Στο τετράδιο να γράψετε μόνο τα προκαταρκτικά (ημερομηνία, κατεύθυνση, εξεταζόμενο μάθημα). **Να μην αντιγράψετε τα θέματα στο τετράδιο.**
2. Να γράψετε το ονοματεπώνυμό σας στο επάνω μέρος των φωτοαντιγράφων, αμέσως μόλις σας παραδοθούν. **Δεν επιτρέπεται να γράψετε καμιά άλλη σημείωση.**

Κατά την αποχώρησή σας να παραδώσετε μαζί με το τετράδιο και τα φωτοαντίγραφα, τα οποία και θα καταστραφούν μετά το πέρας της εξέτασης.

3. Να απαντήσετε **στο τετράδιό σας** σε όλα τα θέματα.
4. Κάθε λύση επιστημονικά τεκμηριωμένη είναι αποδεκτή.
5. Αν κατά την ανάπτυξη των θεμάτων χρησιμοποιήσετε σχήματα, αυτά μπορούν να γίνουν και με μολύβι.
6. Διάρκεια εξέτασης: τρεις (3) ώρες μετά τη διανομή των φωτοαντιγράφων.
7. Χρόνος δυνατής αποχώρησης: μετά τη **10.30'** πρωινή.

ΚΑΛΗ ΕΠΙΤΥΧΙΑ

ΤΕΛΟΣ ΜΗΝΥΜΑΤΟΣ